



Les espaces français

Sur une carte de France, si l'on trace une ligne de Bayonne à Strasbourg, on trouve, à l'ouest de cette ligne, des plaines :

le Bassin Aquitain et le Bassin Parisien et des plateaux peu élevés : le Massif armoricain.

Au Sud et à l'Est, on observe des montagnes :

* les montagnes jeunes avec des sommets hauts et pointus : le Jura, les Alpes et les Pyrénées.

* des montagnes anciennes moins hautes et arrondies, usées par l'érosion : les Vosges ou le Massif Central (des volcans éteints)

Les Alpes sont très élevées mais franchissables par des cols. La plus haute montagne de France est le Mont Blanc qui culmine à 4809 m.

Les Pyrénées sont plus difficiles à traverser. Le pic d'Aneto s'élève à 3 404 m.

❶ Que trouve-t-on à l'Ouest de la ligne imaginaire Bayonne-Strasbourg ?

❷ Qu'y a-t-il de l'autre côté de cette ligne ?

❸ Quel est le plus haut sommet de France ?

❹ Cite les 5 principaux massifs de France

1) _____

2) _____

3) _____

4) _____

5) _____

❺ Décris chacun des paysages en quelques lignes.

Paysage de Normandie : _____

Massif des Alpes : _____





Les espaces français

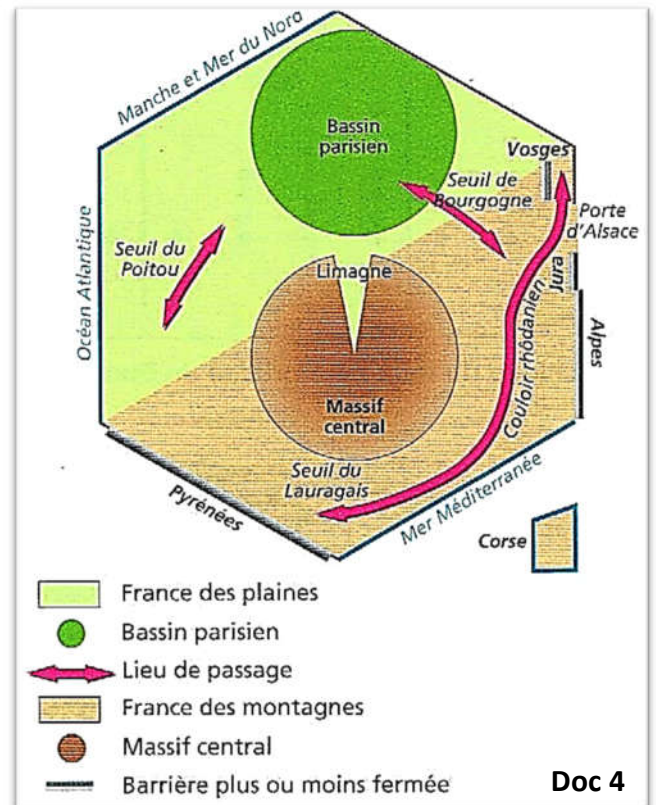
Plaines, seuils, collines et plateaux

* Les plaines, ne sont jamais parfaitement planes. Elles occupent surtout le Nord et le l'Ouest de la France.

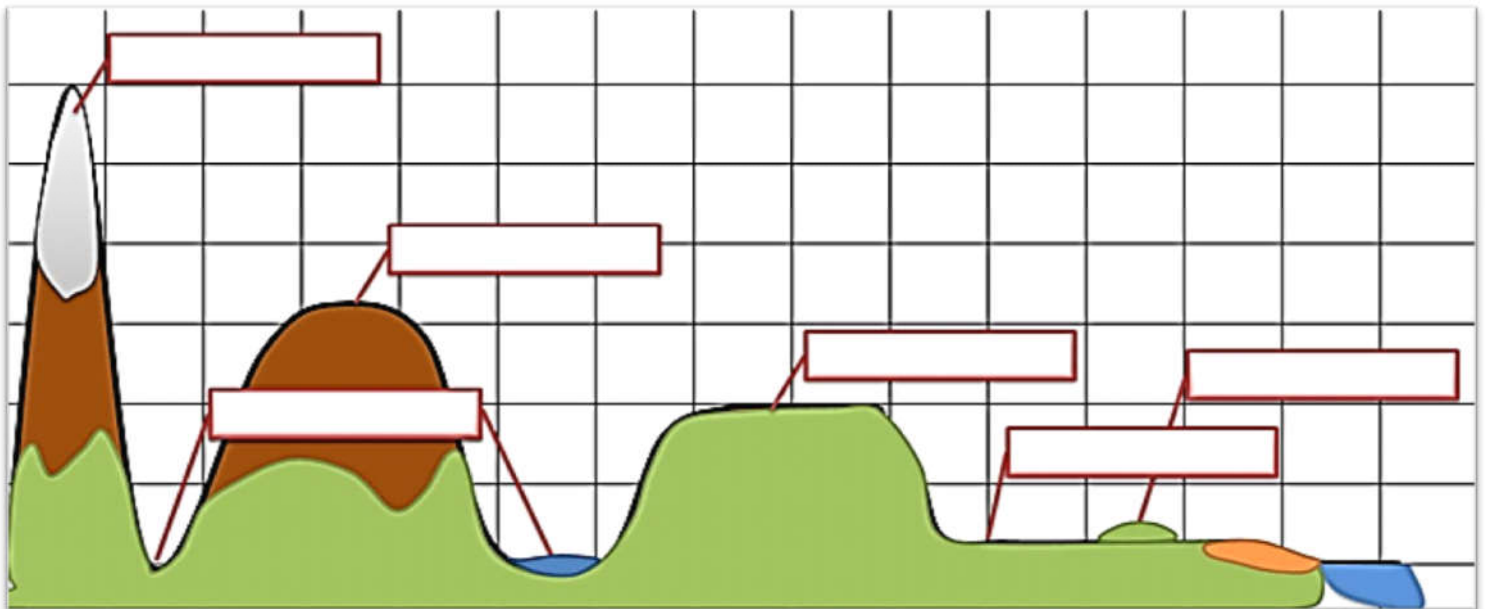
* Les seuils sont des sortes de couloirs, formé de basses terres, qui permet le passage entre 2 régions d'altitude plus élevée.

* Une colline est un relief généralement modéré et relativement peu étendu qui s'élève au-dessus d'une plaine ou d'un plateau et se distingue dans le paysage. Les collines peuvent être isolées ou se regrouper en champs de collines.

* Les plateaux sont des surfaces planes mais situées en altitude. Certains sont à peine plus hauts que des colline, d'autres aussi hauts que des montagnes.

**6** Complète ce schéma avec les mots :

plateaux, plaines, vallée, colline, montagne
jeune, montagne ancienne

**7** Indique si ces reliefs se situent dans la France des plaines ou dans la France des montagnes (doc 4)

1) Seuil du Poitou : _____

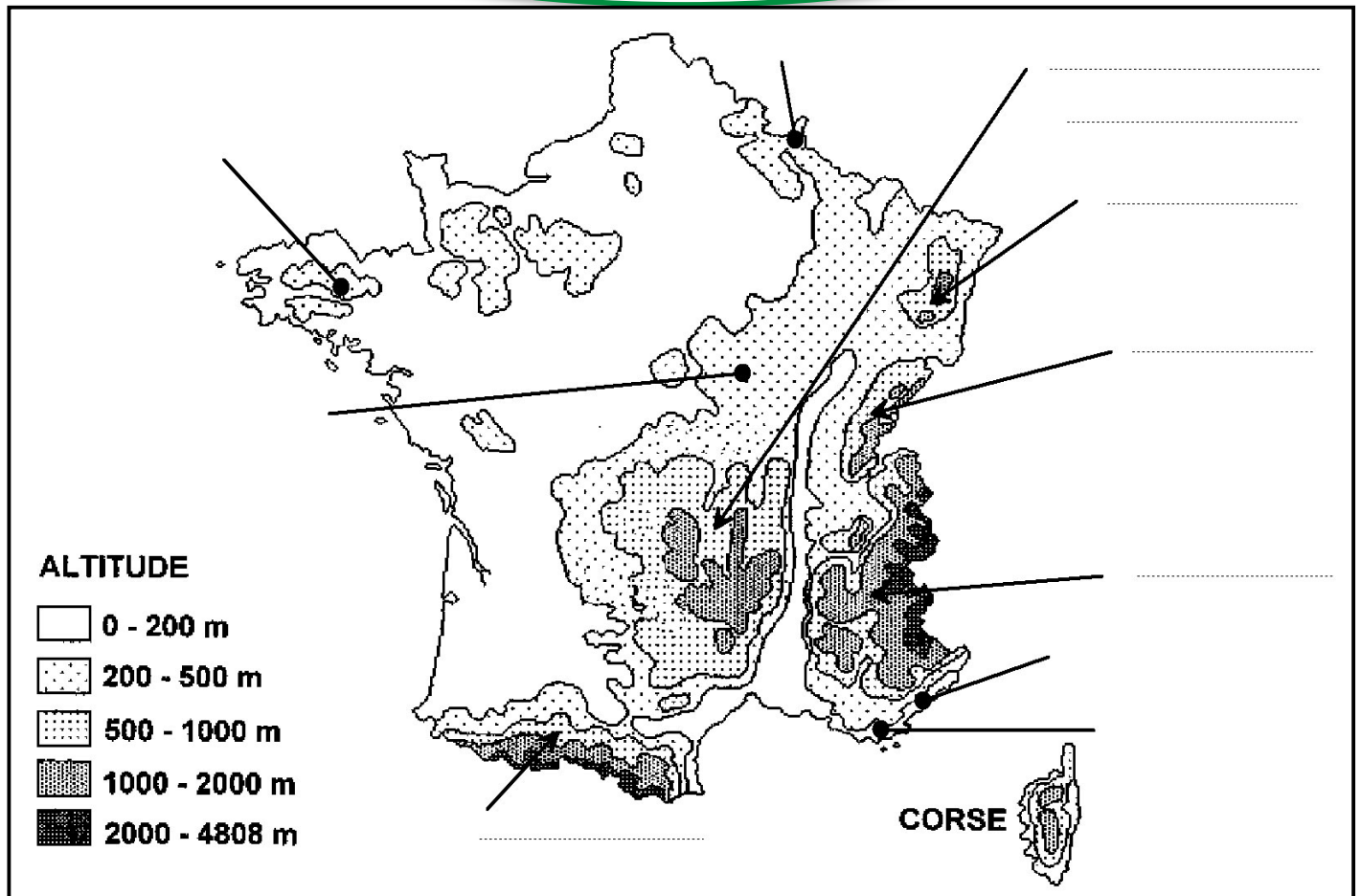
2) Seuil du Lauragais : _____

3) Seuil de Bourgogne : _____

4) Couloir rhodanien : _____



Les espaces français



Complète la carte et réponds aux questions à l'aide des documents au recto et/ou d'un dictionnaire :

❶ Colorie la carte et la légende :

- de 1 000m à 2 000m en marron foncé
- de 500m à 1 000m en marron clair
- de 200m à 500m en jaune
- de 0 à 200m en vert

❷ Place les montagnes françaises sur les pointillés de la carte :

le Jura - les Alpes - Les Pyrénées - les Vosges - le Massif Central

❸ Coupe la France en deux pour séparer la France des montagnes et la France des plaines puis relie les bonnes réponses :

- | | | |
|--------------------------------------|---|---------------------|
| La France des montagnes se trouve... | • | • ... au nord-ouest |
| La France des plaines se trouve... | • | • ... au sud-est |

❹ Dans les montagnes françaises, quelles sont :

- Les montagnes jeunes : _____
- Les montagnes anciennes : _____



Les espaces français

Leçon

Sur une carte de France, si l'on trace une ligne de _____ à _____, on trouve, à l'ouest de cette ligne, des _____ (le Bassin Aquitain et le Bassin Parisien) et des _____ peu élevés : le Massif armoricain.

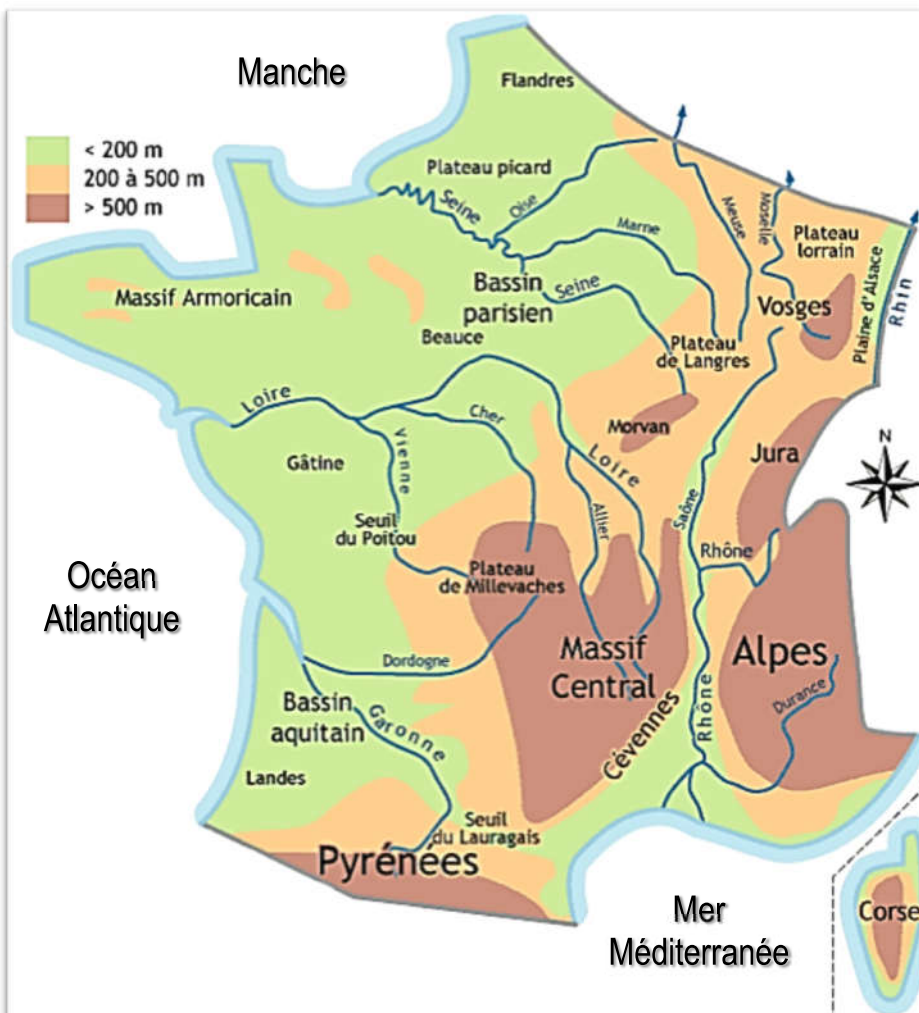
Au sud et à l'Est, on observe des _____ :

* les montagnes _____ avec des sommets _____ et _____ : le Jura (en forme de croissant), les Alpes et les Pyrénées.

* des montagnes _____ moins _____ et _____, usées par l' _____ : les Vosges ou le Massif Central (des volcans éteints).

Les Alpes sont très élevées mais franchissables par des cols. La plus haute montagne de France est le _____ qui culmine à _____ m.

Les Pyrénées sont plus difficiles à traverser. Le pic d' _____ s'élève à 3 404 m.



Ce que je dois savoir faire

Situer sur une carte de France :

* les 5 montagnes principales : le Massif central, les Alpes, le Jura, les Vosges, les Pyrénées

* les 3 plaines-plateau : bassin Parisien, bassin Aquitain et Massif Armoricain



Massif central : des volcans éteints