

La monnaie : évaluation

1/ Calcule ces sommes




2/ Colorie les pièces ou billets nécessaires



3/ Dessine 1€ 40c de 3 manières différentes, sans utiliser



4/ Dessine le moins de pièces et de billets possible pour payer ces objets.



Enveloppe
et timbre :
1 € 70








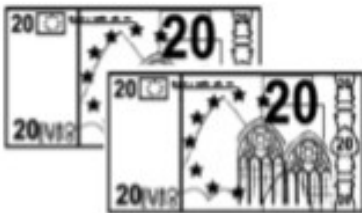



Paire de
baskets :
34 € 90

5/ Quel porte-monnaie contient le plus d'argent ?



6/ Quelle somme va rendre la marchande pour chacun de ces objets ?

L'objet coute :	Mila donne :	La marchande lui rend :
 7 € 50 c		
 27 € 60 c		
 15 € 40 c		
 34 € 90 c		
 45 € 20 c	