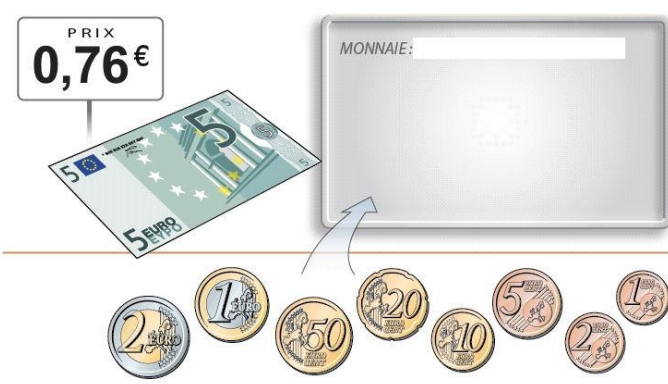


LA MONNAIE - Combien doit-on te rendre ?

Calcule ce que l'on doit te rendre, dessine les pièces et complète.

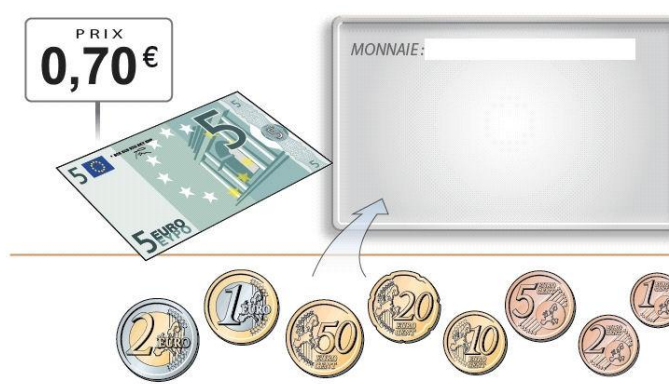
PRIX **0,76 €**

MONNAIE: _____



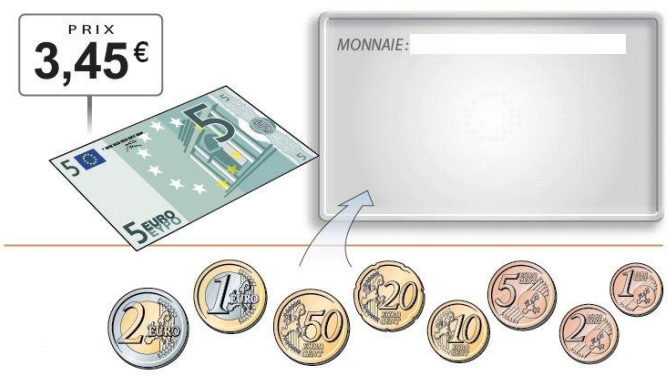
PRIX **0,70 €**

MONNAIE: _____



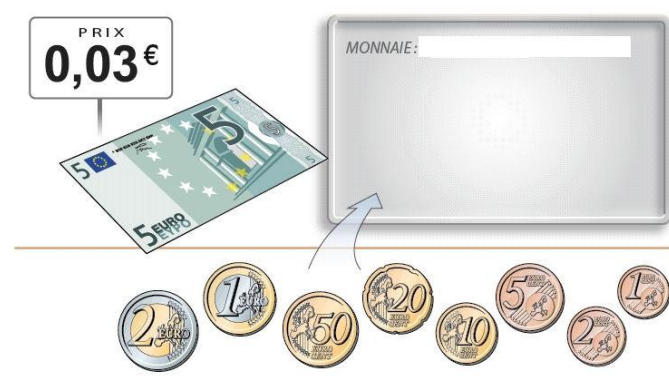
PRIX **3,45 €**

MONNAIE: _____



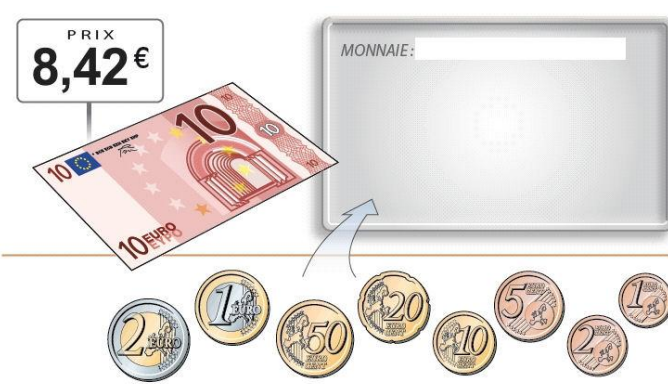
PRIX **0,03 €**

MONNAIE: _____



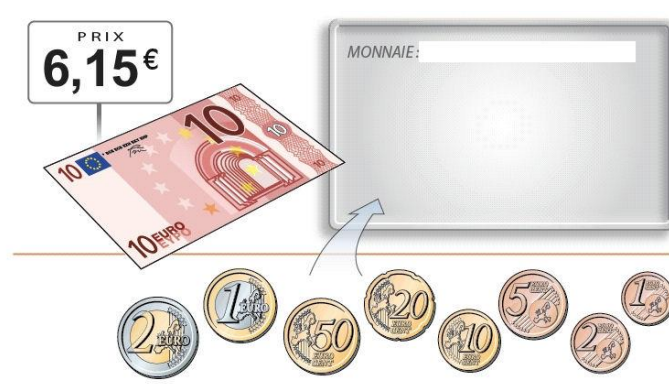
PRIX **8,42 €**

MONNAIE: _____



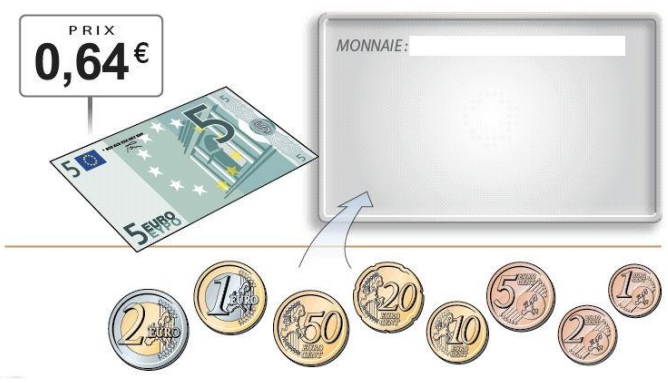
PRIX **6,15 €**

MONNAIE: _____



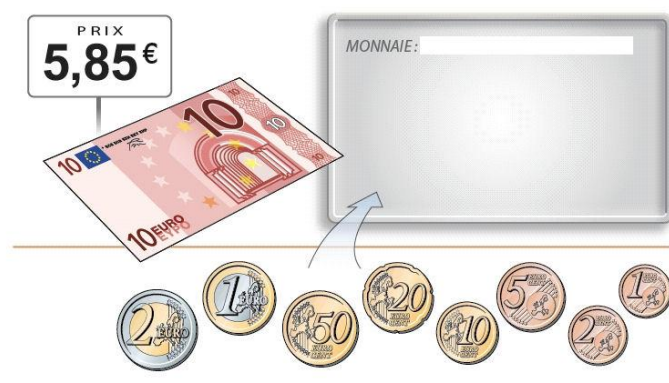
PRIX **0,64 €**

MONNAIE: _____



















PRIX **5,85 €**

MONNAIE: _____



LA MONNAIE - Combien doit-on te rendre ?




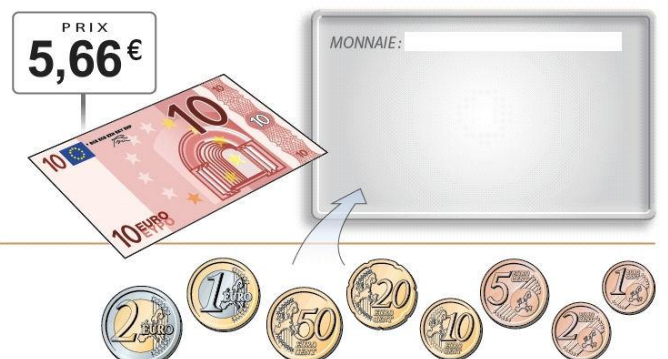



Calcule ce que l'on doit te rendre, dessine les pièces et complète.

<p>PRIX 7,01 €</p>  <p>MONNAIE: _____</p> 	<p>PRIX 6,32 €</p>  <p>MONNAIE: _____</p> 
<p>PRIX 0,72 €</p>  <p>MONNAIE: _____</p> 	<p>PRIX 8,77 €</p>  <p>MONNAIE: _____</p> 
<p>PRIX 7,36 €</p>  <p>MONNAIE: _____</p> 	<p>PRIX 4,18 €</p>  <p>MONNAIE: _____</p> 
<p>PRIX 0,65 €</p>  <p>MONNAIE: _____</p> 	<p>PRIX 1,38 €</p>  <p>MONNAIE: _____</p> 



LA MONNAIE - Combien doit-on te rendre ?

Calcule ce que l'on doit te rendre, dessine les pièces et complète.

<p>PRIX 6,21 €</p> <p>MONNAIE: _____</p> 	<p>PRIX 0,59 €</p> <p>MONNAIE: _____</p> 
<p>PRIX 3,59 €</p> <p>MONNAIE: _____</p> 	<p>PRIX 5,66 €</p> <p>MONNAIE: _____</p> 
<p>PRIX 3,80 €</p> <p>MONNAIE: _____</p> 	<p>PRIX 0,03 €</p> <p>MONNAIE: _____</p> 
<p>PRIX 1,98 €</p> <p>MONNAIE: _____</p> 	<p>PRIX 0,09 €</p> <p>MONNAIE: _____</p> 