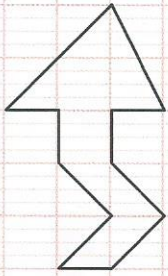
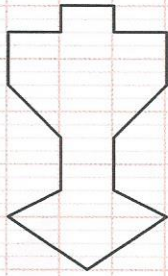


161 Certaines des figures ci-dessous ont un ou plusieurs axes de symétrie, d'autres n'en ont pas. Après les avoir bien observées, reproduis et complète le tableau.

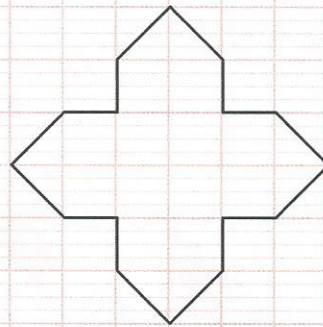
Figures	①	②	③	④	⑤	⑥	⑦
Un axe de symétrie							
Plusieurs axes de symétrie							
Pas d'axe de symétrie							



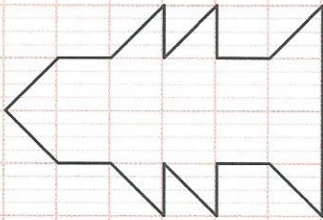
①



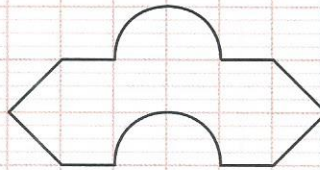
②




③



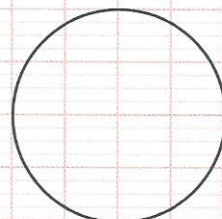
④



⑤



⑥



⑦

162 Reproduis



163 Reproduis



164 Reproduis

